



ik kan terugtellen vanaf 5



ik kan terugtellen vanaf 10



ik kan terugtellen vanaf 15

$$15 \quad . \quad . \quad . \quad 11$$



ik kan terugtellen vanaf 20

$$20 \quad . \quad . \quad . \quad 16$$



ik kan terugtellen vanaf 25

25				21
----	--	--	--	----




ik kan terugtellen vanaf 30

30				26
----	--	--	--	----



ik kan terugtellen vanaf 50



ik kan terugtellen vanaf 100

